


Questão 1. Em uma escola com 800 alunos, realizou-se uma pesquisa sobre o esporte preferido dos estudantes. Os resultados estão representados no gráfico abaixo:

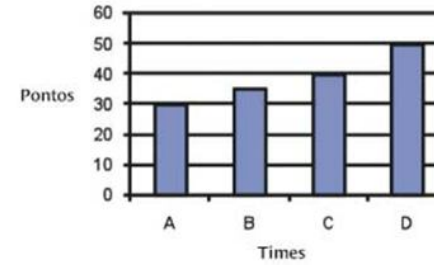
Gráfico 1 – Esporte preferido pelos alunos.



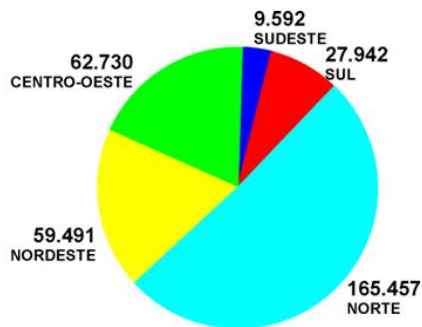
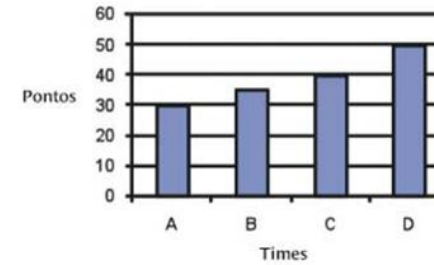
Observando o gráfico, quantos alunos escolheram o futebol?

Fonte: Andrini e Vasconcellos (2006).

Questão 2. O gráfico abaixo mostra a quantidade de pontos feitos pelos times A, B, C e D no campeonato de futebol da escola. De acordo com o gráfico quantos pontos o time C conquistou?

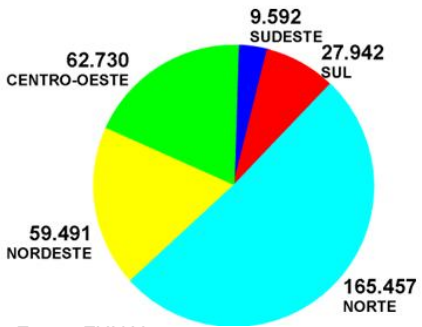


Questão 3. O gráfico abaixo mostra a quantidade de pontos feitos pelos times A, B, C e D no campeonato de futebol da escola. De acordo com o gráfico quantos pontos o time A e D conquistaram juntos?



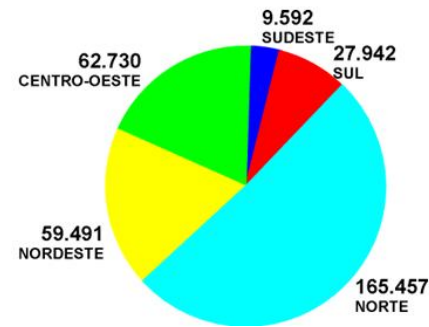
Questão 4. Qual a região brasileira que tem o maior número de índios ?

Fonte: FUNAI



Questão 5. Qual a região brasileira que tem o menor número de índios ?

Fonte: FUNAI



Questão 6. Qual o número de índios da região nordeste?

Fonte: FUNAI

Questão 7. Pelo gráfico podemos dizer que a quantidade de sorvete consumida no Brasil é:

- (a) maior que na da Nova Zelândia.
- (b) a mesma quantidade que na da Dinamarca.
- (c) maior que na da Itália.
- (d) pouco menos que a da Alemanha.




Questão 8. Quanto ao consumo de sorvete, por pessoa, o gráfico mostra que o Brasil está em:

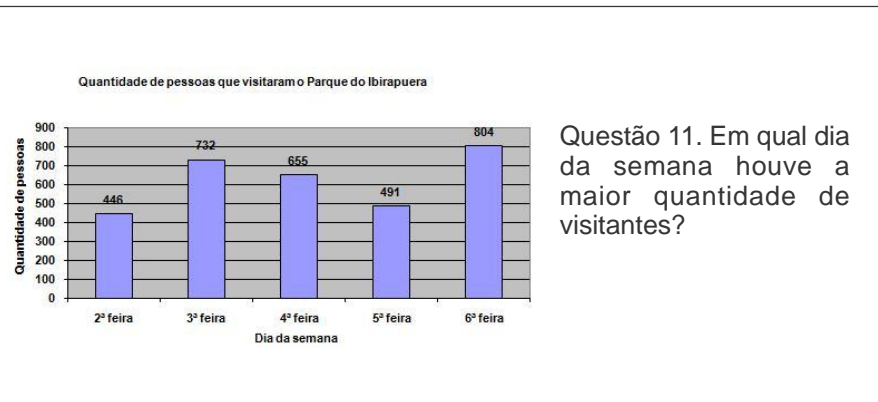
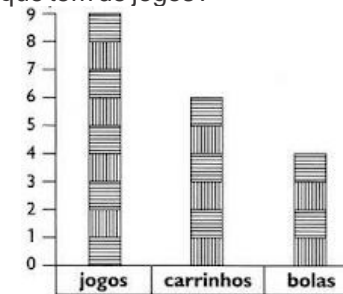
- (a) último lugar.
- (b) sexto lugar.
- (c) quarto lugar.
- (d) primeiro lugar.



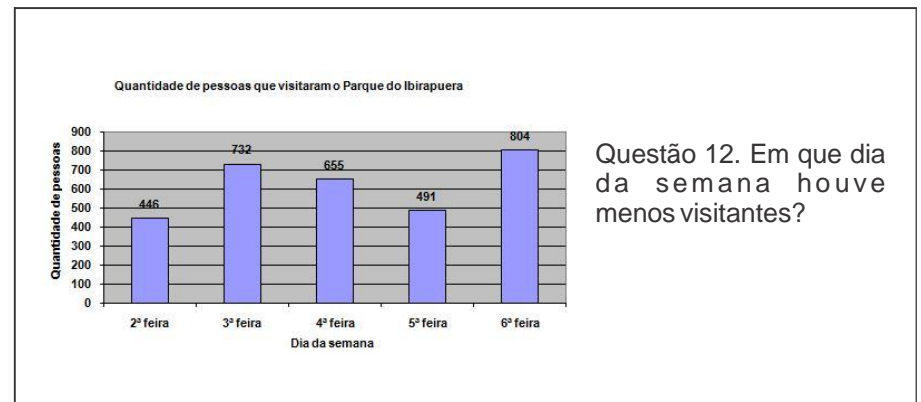
Questão 9. Observe o gráfico de brinquedos de Artur. Cada barra corresponde a um brinquedo. Quantos carrinhos Artur tem?



Questão 10. Observe o gráfico de brinquedos de Artur. Cada barra corresponde a um brinquedo. Quantos carrinhos faltam para Artur ficar com a mesma quantidade que tem de jogos?

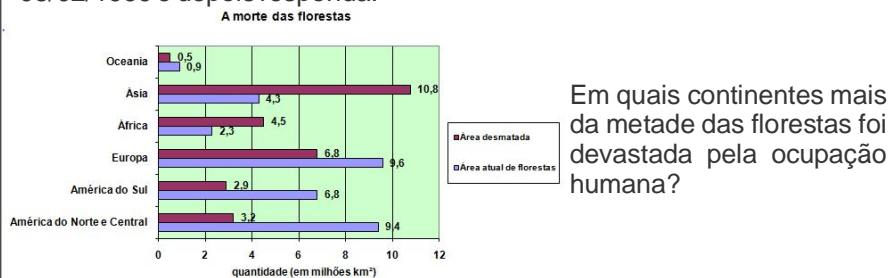


Questão 11. Em qual dia da semana houve a maior quantidade de visitantes?

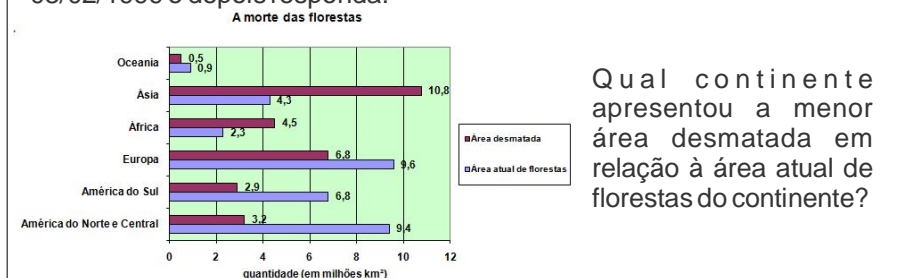


Questão 12. Em que dia da semana houve menos visitantes?

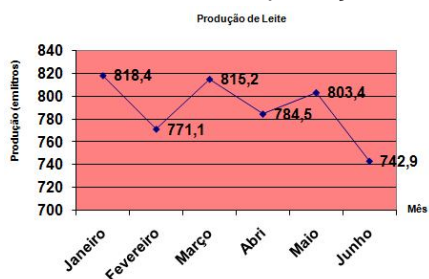
Questão 13. O estado das florestas do planeta e o que foi devastado pela ocupação humana, são os dados que estão representados no gráfico a seguir. Observe estes dados que foram publicados na revista Época de 08/02/1999 e depois responda:



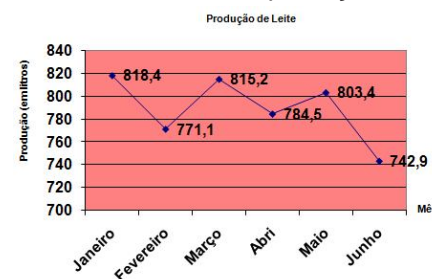
Questão 14. O estado das florestas do planeta e o que foi devastado pela ocupação humana, são os dados que estão representados no gráfico a seguir. Observe estes dados que foram publicados na revista Época de 08/02/1999 e depois responda:



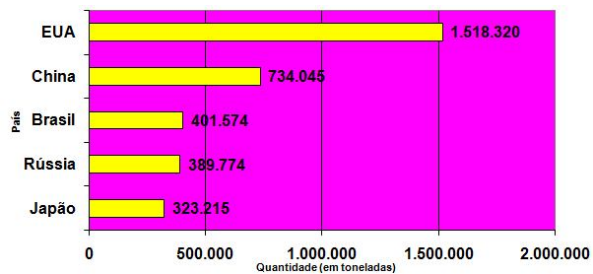
Questão 15. O gráfico de linhas abaixo mostra a produção de leite na Fazenda do Senhor B.Zerra no primeiro semestre do ano de 2014. Analise-o e responda: Em qual mês ocorreu a menor produção de leite?



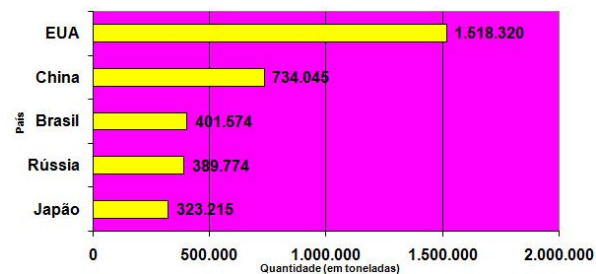
Questão 16. O gráfico de linhas abaixo mostra a produção de leite na Fazenda do Senhor B.Zerra no primeiro semestre do ano de 2014. Analise-o e responda: Em qual mês ocorreu a maior produção de leite?



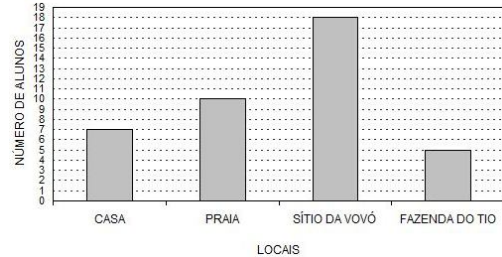
Questão 17. Na revista Isto É de 23/02/2005 foi publicado a quantidade (em toneladas), dos países que mais emitiram CO₂ na atmosfera no ano de 2000. Quantas toneladas de CO₂ o Brasil emitiu no ano de 2000?



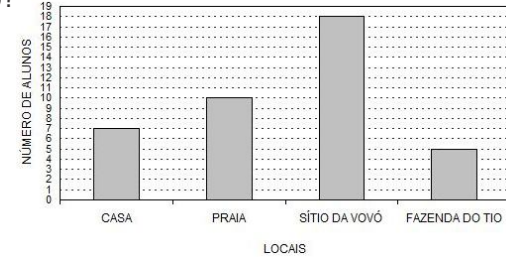
Questão 18. Na revista Isto É de 23/02/2005 foi publicado a quantidade (em toneladas), dos países que mais emitiram CO₂ na atmosfera no ano de 2000. Qual foi o país que mais emitiu CO₂ na atmosfera no ano de 2000?



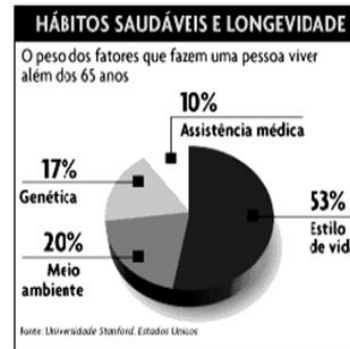
Questão 19. No final do ano, os alunos de D. Célia fizeram uma pesquisa na sala, para saber onde cada um ia passar as férias. Cada aluno podia escolher um só lugar, sendo representado pelo gráfico abaixo. Qual foi o local mais preferido?



Questão 20. No final do ano, os alunos de D. Célia fizeram uma pesquisa na sala, para saber onde cada um ia passar as férias. Cada aluno podia escolher um só lugar, sendo representado pelo gráfico abaixo. Qual foi o local menos preferido?

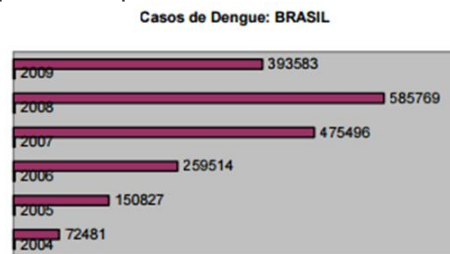


Questão 21. Analisando o gráfico: Qual é o fator que mais influencia na longevidade?



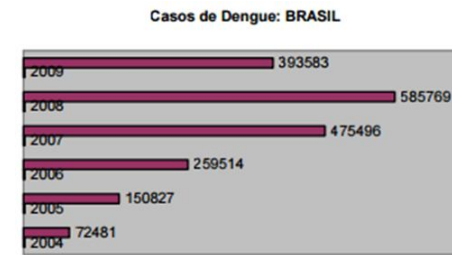
Questão 22. Analisando o gráfico: Qual é o fator que menos influencia na longevidade?

Questão 23. Os dados contidos no gráfico abaixo expressam o número de casos de dengue confirmados no Brasil, no período de 2004 a 2009. Com base no gráfico, qual o ano que teve mais casos?



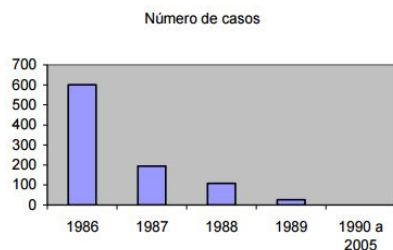
Fonte: Ministério da Saúde.

Questão 24. Os dados contidos no gráfico abaixo expressam o número de casos de dengue confirmados no Brasil, no período de 2004 a 2009. No período de 2004 a 2009, qual foi o ano que teve menos casos de dengue no Brasil?

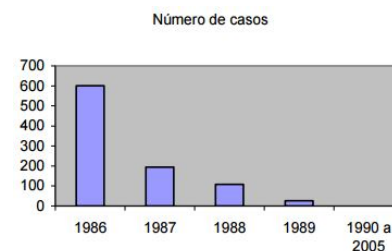


Fonte: Ministério da Saúde.

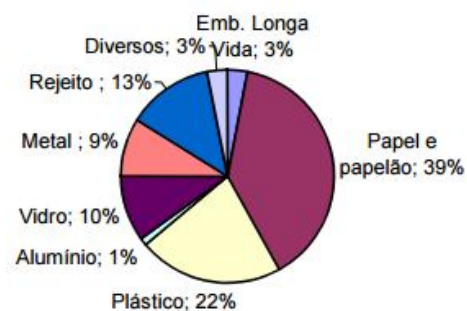
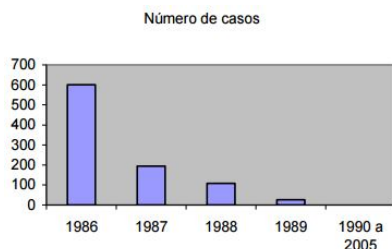
Questão 25. O gráfico a seguir mostra o número de casos de poliomielite (paralisia infantil) no Brasil, de 1986 a 2005. Quantos casos da doença ocorreram entre os anos de 1990 a 2005?



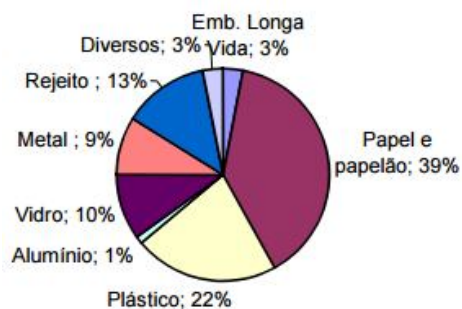
Questão 26. O gráfico a seguir mostra o número de casos de poliomielite (paralisia infantil) no Brasil, de 1986 a 2005. Qual foi o ano que apresentou o maior número de casos durante o período de 1986 a 2005?



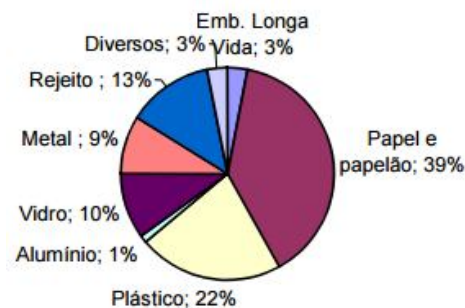
Questão 27. O gráfico a seguir mostra o número de casos de poliomielite (paralisia infantil) no Brasil, de 1986 a 2005. Quantos casos da doença ocorreram no ano de 1987?



Questão 28. O gráfico de setores expressa a porcentagem da composição média da coleta seletiva. Quantos por cento representa a coleta de Metal e Vidro juntos?



Questão 29. O gráfico de setores expressa a porcentagem da composição média da coleta seletiva. Qual é o material mais coletado?



Questão 30. O gráfico de setores expressa a porcentagem da composição média da coleta seletiva. Quantos por cento representa a coleta de alumínio?